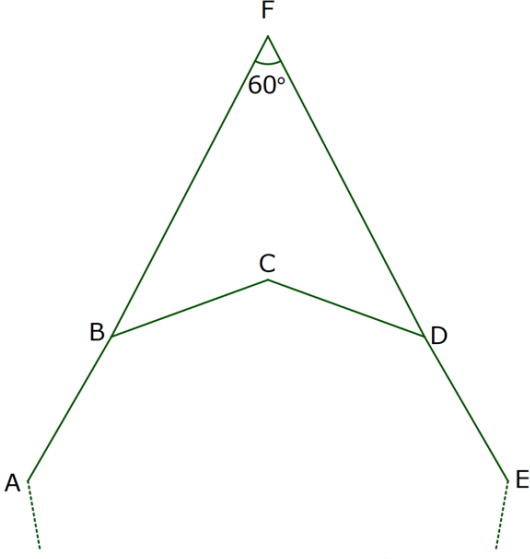


ÇOKGENDE BUMERANG

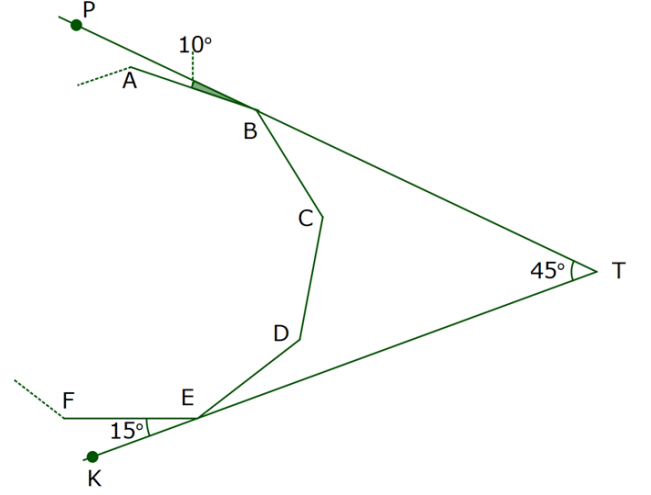
1)



ABCDE... bir düzgün çokgendir. $m(\widehat{AFE}) = 60^\circ$ olduğuna göre, bu düzgün çokgen kaç kenarlıdır?

- A) 9 B) 10 C) 12 D) 15 E) 18

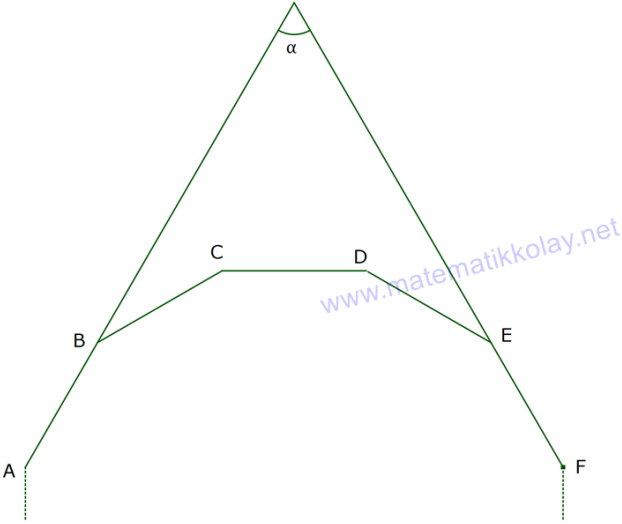
3)



ABCDEF... bir düzgün çokgen, $m(\widehat{PTK}) = 45^\circ$, $m(\widehat{PBA}) = 10^\circ$ ve $m(\widehat{FEK}) = 15^\circ$ olduğuna göre, bu çokgen kaç kenarlıdır?

- A) 6 B) 8 C) 9 D) 10 E) 12

2)



ABCDEF... bir düzgün onikigen olduğuna göre, $m(\widehat{AKF}) = \alpha$ kaç derecedir?

- A) 50 B) 60 C) 85 D) 90 E) 100

CEVAP ANAHTARI

1	2	3
A	B	C