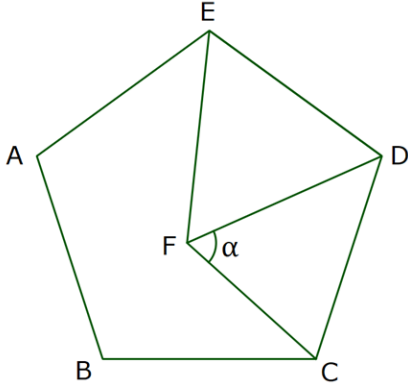


BEŞGENDE AÇI

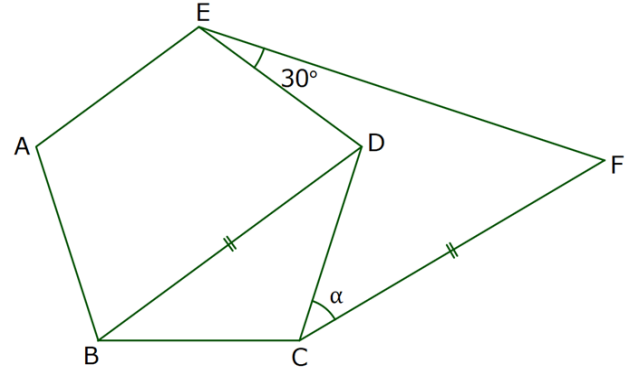
1)



ABCDE bir düzgün beşgen ve EFD bir eşkenar üçgen olduğuna göre,  $m(\widehat{DFC}) = \alpha$  kaç derecedir?

- A) 54    B) 60    C) 66    D) 72    E) 78

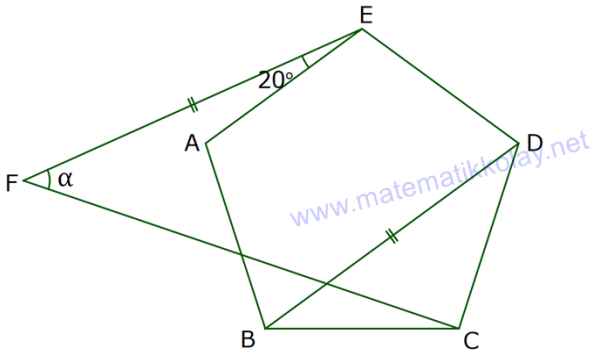
3)



ABCDE bir düzgün beşgen,  $m(\widehat{DEF}) = 30^\circ$  ve  $|BD| = |CF|$  olduğuna göre,  $m(\widehat{DCF}) = \alpha$  kaç derecedir?

- A) 10    B) 12    C) 15    D) 18    E) 20

2)



ABCDE bir düzgün beşgen,  $m(\widehat{FEA}) = 20^\circ$  ve  $|EF| = |BD|$  olduğuna göre,  $m(\widehat{EFC}) = \alpha$  kaç derecedir?

- A) 36    B) 40    C) 44    D) 48    E) 52

CEVAP ANAHTARI

1	2	3
C	C	B